












Şekil Sayı Eşleştirme

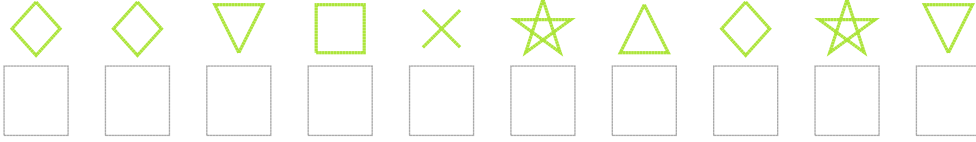
 = 2	 = 3	 = 4	 = 6	 = 7	 = 0	 = 8	 = 1	 = 9	 = 5
--	--	--	--	--	--	---	--	--	--

Aşağıdaki uzun şifreleri hatasız çözerek altlarına yazın:

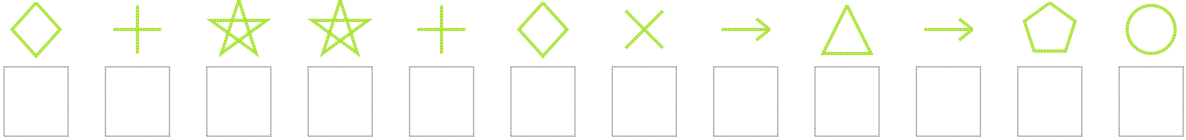
1. Şifre



2. Şifre



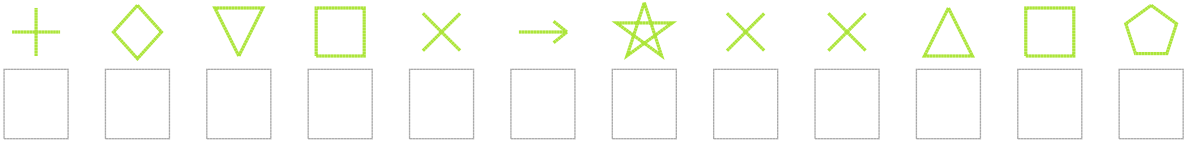
3. Şifre



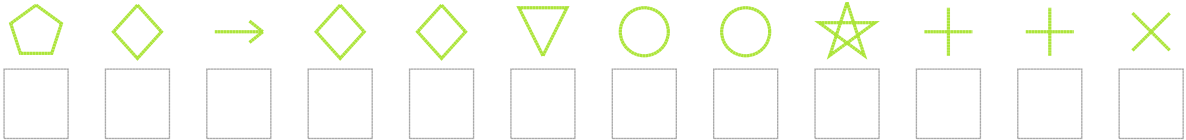
4. Şifre



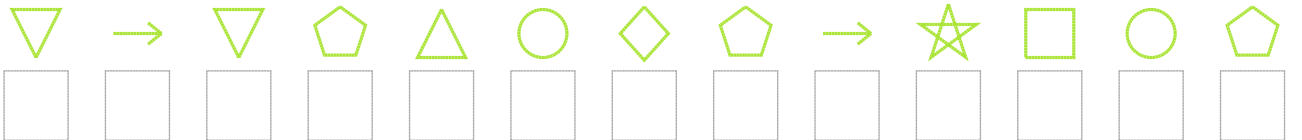
5. Şifre



6. Şifre



7. Şifre



□ BONUS: 5. ve 7. şifrenin ikinci rakamının toplamı kaçtır?

Cevap Anahtarı

1. Şifre: 7193446447018

2. Şifre: 9943125924

3. Şifre: 962269185870

4. Şifre: 0901205492

5. Şifre: 694318211537

6. Şifre: 798994002661

7. Şifre: 4847509782307

□ Bonus Soru Cevabı: 17